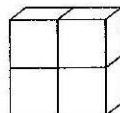




一、填空。(22分)

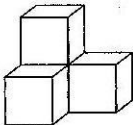

1. 計算 $15+4\times 5$ 時,應先算()法,再算()法,結果是()。
2. 一架飛機模型 60 元,小明一個月能攢 8 元,他至少需要攢()個月,才能買一架飛機模型。
3. 右圖中,從前面看能看到()個正方形,從上面看能看到()個正方形,從左面看能看到()個正方形。
4. 計算 50×6 時,可以先算() \times ()=(),再在積的末尾添上()個 0。
5. 40 的 8 倍是();()是 24 的 3 倍。
6. 360 是 6 的()倍;540 是()的 6 倍。
7. 爸爸有 1000 元錢,買了一台電視機用去 640 元,一台洗衣機用去 260 元,還剩()元錢。
8. 在○里填上“>”“<”或“=”。



$$5\times 3+5 \bigcirc 40 \qquad 32\div 4+4 \bigcirc 4 \qquad 123+(178-23) \bigcirc 278$$

$$20\times 6 \bigcirc 30\times 4 \qquad 360\div 9 \bigcirc 240\div 8 \qquad 7\times 9 \bigcirc 490\div 7$$

二、判斷。(5分)

1. 計算 $24\div 6\times 4$ 的結果是 1。 ()
2.  從前、後、左、右看都是 。 ()
3. 50×8 的結果末尾有兩個 0。 ()
4. 計算 33×4 時,因為 $3\times 4=12$, $12+12=24$,所以結果是 24。 ()
5. 用乘法計算,結果一定變大;用除法計算,結果一定變小。 ()

三、選擇。(5分)

1. 要使 $6\times(\square+4)=48$ 成立,□里應該填()。

① 8

② 4

③ 7

2. 小丽从某一方向看一个物体是圆形,这个物体不可能是()。
- ① 球 ② 圆柱 ③ 长方体
3. 下面算式的结果是 600 的是()。
- ① $80 \times 6 + 120$ ② $370 + 530 - 200$ ③ $640 + 160 \div 4$
4. 甲、乙两城相距 24 千米,一辆自行车每小时能行驶 8 千米,这辆自行车行驶一个来回需要多少小时? 列式为()。
- ① $24 \div 8$ ② $24 + 24 \div 8$ ③ $(24 + 24) \div 8$
5. 42×3 不能表示为()。
- ① 42 里面有多少个 3 ② 42 的 3 倍是多少 ③ 42 个 3 相加是多少

四、计算。(23 分)

1. 直接写得数。(5 分)

$40 \times 5 =$	$30 \times 3 =$	$420 \div 6 =$	$480 \div 4 =$
$14 \times 4 =$	$6 \times 4 + 3 =$	$330 \div 3 - 10 =$	$240 + 460 - 250 =$
$(24 + 18) \div 6 =$		$9 \times (47 - 39) =$	

2. 用竖式计算。(6 分)

$248 - (658 - 592)$	$875 - (244 + 328)$
---------------------	---------------------

3. 脱式计算。(12 分)

$542 - (366 - 184)$	$245 + (640 - 226)$
---------------------	---------------------

$32 \times 3 + 124$

$(310 + 250) \div 7$

五、第一行的图形分别是谁看到的？连一连。(9分)



六、解决问题。(36分)

1. 某工程队修一段公路,每天修 30 米,修了 5 天,还剩 240 米,这段公路长多少米?(5分)

2.



每千克 30 元

每千克 5 元

每千克 6 元

每千克 12 元

(1) 葡萄的单价是桃子的几倍? (5分)

(2) 买 4 千克草莓和 1 千克葡萄要花多少钱? (5分)

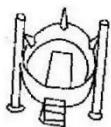
3. 某生产小组上午接到 38 件生产任务,下午接到 34 件,把这些任务平均分给 8 个小组,每个小组生产多少件? (5分)

4. 爱心捐款活动中,五年级学生共捐款 325 元,六年级比五年级多捐款 164 元,五、六年级学生一共捐款多少元? (5 分)

5.



蹦蹦床
每次 20 元



太空船
每次 35 元



激流勇进
每次 28 元



碰碰车
每次 46 元

- (1) 80 元钱玩两次太空船够吗? 如果够,那么还剩多少钱? (6 分)

(2) (5 分)

我想玩 3 次蹦蹦床和 1 次激流勇进,一共需要多少钱?



期中测评卷(一)

一、1. 乘 加 35 2. 8 3. 4 2 2 4. 5 6 30 — 5. 320 72 6. 60 90 7. 100

8. < > = = > <

二、1. × 2. × 3. ✓ 4. × 5. ×

三、1. ② 2. ③ 3. ① 4. ③ 5. ①

四、1. 200 90 70 120 56 27 100 450 7 72 2. 182 303 3. 360 659 220 80

五、



六、1. $30 \times 5 + 240 = 390$ (米) 2. (1) $30 \div 5 = 6$ (2) $12 \times 4 + 30 = 78$ (元) 3. $(38 + 34) \div 8 = 9$ (件) 4. $325 + 325 + 164 = 814$ (元) 5. (1) $35 \times 2 = 70$ (元) 70元 < 80元 够 $80 - 70 = 10$ (元) (2) $20 \times 3 + 28 = 88$ (元)