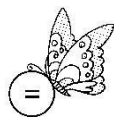



期中测试卷

- 一、填一填。(第10题4分, 其余每题2分, 共22分)
1. 计算 $(47+53)\div 2$ 时, 要先算()法, 再算()法。
 2. 口算 40×6 时, 可以这样想: 因为 $4\times 6=()$, 所以 $40\times 6=()$ 。
 3. ()的3倍是900; 比15的4倍还多8的数是()。
 4. 从120里连续减去()个4, 剩下的正好是40。
 5. $800\times \square$, 要使积的末尾有3个0。□里最小可以填(); 要使 $4\square 00\div 6=700$, □里应该填()。
 6. 三年级共有8个班, 其中共有84人参加夏令营, 野外训练时每4人分为一组, 可以分几组? 正确列式是()。
 7. 三(1)班选派同学参加跳绳比赛, 每组选6名男生和8名女生, 共3组。算式 $(6+8)\times 3$ 表示的意思是()。
 8. 一本故事书有80页, 小红看了4天, 每天看12页, 还剩()页没有看, 第5天她要从第()页开始看起。
 9. 一个数除以8的商是80, 这个数是()。
 10. 蝴蝶应该飞到哪里? (在○里填上“>”“<”或“=”) (在○里填上“>”“<”或“=”)



$$18\times 2 \bigcirc 18\times 3$$


$$42\times 2 \bigcirc 42\div 2$$

$$120\div 3 \bigcirc 240\div 6$$

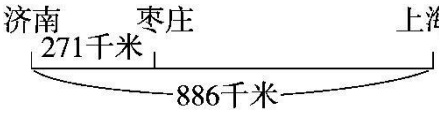
$$5\times 3+4 \bigcirc 5\times (3+4)$$

二、辨一辨。(对的在括号里画“√”, 错的画“×”)(每题1分, 共5分)

1. 计算 $16+12\times 6$ 时, 应按照从左到右的顺序计算。 ()

2. 站在一个位置上观察 , 最多能看到三个面。 ()
3. 100与80的差除以5, 商是多少? 正确列式是 $100-80\div 5$ 。()
4. 最大的一位数与最小的三位数的积是9000。 ()
5. 6个13的和与13的6倍相等。 ()

三、选一选。(把正确答案的序号填在括号里)(每题1分, 共5分)

1. 水果店运来400千克苹果, 第一天卖出128千克, 第二天卖出235千克, 还剩多少千克? 列式不正确的是()。 A. $400-128-235$ B. $400-128+235$ C. $400-(128+235)$
2. 下列各式中, ()要想先算加法的话, 必须添上小括号。
3. A. $36+25-14$ B. $42+21\div 3$ C. $63+9-3$
4. 下列各式中, 积与 20×9 的积相等的是()。
A. 45×4 B. 40×4 C. 35×6
5. 商店里有8盒钢笔, 每盒5支, 卖了19支, 现在还剩多少支? 列式正确的是()。(www.xsc.cn)
A. $8\times 5+19$ B. $8\times 5-19$ C. $8\times(19-5)$
5.  枣庄到上海的距离是()。
A. 615千米 B. 1157千米 C. 886千米

四、计算挑战。(共 32 分)

1. 直接写出得数。(每题 1分, 共 8分)

$15\times 6=$ $350\div 7=$ $96\div 3=$ $25\times 4=$

$326+159=$ $200-98=$ $400\div 8=$ $7\times 21=$

2. 列竖式计算。(每题 3分, 共 6分)

$928 - 179 =$

$1000 - 327 + 256 =$

3. 用你喜欢的方法计算。(每题3分, 共18分) $(720 + 180) \div 9$

$1000 - 295 - 363$

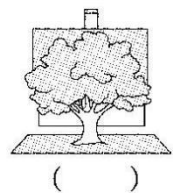
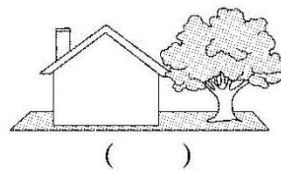
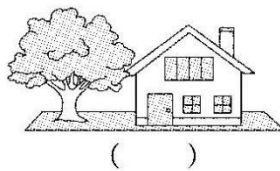
$145 - 45 \div 5$

$375 - 298 + 125$

$1000 - 257 - 243$

$723 + 215 - 223$

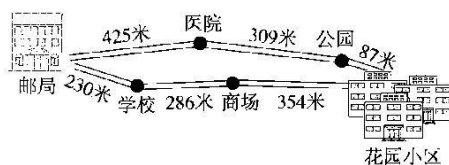
五、下面各图分别是曲强在哪个位置看到的? 请把序号填在相应的括号里。(每空2分, 共6分)



六、走进生活，解决问题。(每题 6 分，共 30 分)

1. 一把椅子 40 元，一张桌子的价钱是一把椅子的 4 倍，一张桌子和一把椅子一共多少元？ (www.xsc.cn)

2. 送信。



邮递员叔叔从邮局到花园小区走哪条路近？近多少米？



3. 每箱橘子32元

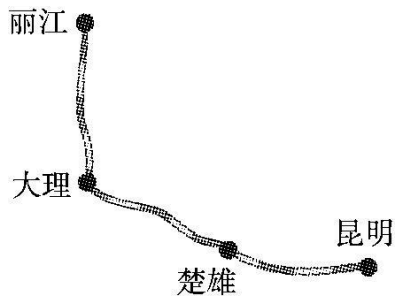


每箱梨48元

- (1) 买 3 箱橘子和 2 箱梨，分别要花多少元？

- (2) 敬老院买了 4 箱橘子和 4 箱梨，一共花了多少元？(用两种不同的方法解答)

4. 下图是云南省著名的旅游路线，请根据里程表想一想，算一算，画一画。



	里程/千米
昆明—楚雄	152
昆明—大理	328
昆明—丽江	524

(1) 大理到丽江的距离是多少千米？

(2) 一辆旅游巴士从楚雄出发去丽江，沿旅游路线行驶了 300 千米。

用“△”在图中标出巴士的大概位置。

5. 李叔叔开车上下班，一周行驶的里程如下表：

时间	星期一	星期二	星期三	星期四	星期五
里程/千米	29	32	31	27	32

(1) 李叔叔这五天一共行驶了多少千米？

(2) 星期一早上出发时里程表的读数是 125 千米，李叔叔星期五晚上到家时里程表的读数是多少？

答案

一、1. 加 除 2. 24 240 3. 300 68 4. 20

【点拨】先要求出一共减去了多少，列式是 $120-40$ 。

5. 5 2 6. $84\div 4$

7. 三(1)班一共有多少名同学参加跳绳比赛

8. 32 49

9. 640

10. $< > = <$

二、1. \times 2. $\sqrt{\quad}$ 3. \times 4. \times 5. $\sqrt{\quad}$

三、1. B 2. B 3. A 4. B 5. A

四、1. 90 50 32 100 485 102 50 147

2. $928-179=749$ $1000-327+256=929$

$928-179=749$ $1000-327+256=929$

$$\begin{array}{r} \overset{\cdot}{9} \overset{\cdot}{2} 8 \\ - 179 \\ \hline 749 \end{array} \quad \begin{array}{r} \overset{\cdot}{1} \overset{\cdot}{0} \overset{\cdot}{0} 0 \\ - 327 \\ \hline 673 \end{array} \quad \begin{array}{r} 673 \\ + 256 \\ \hline 929 \end{array}$$

$(720+180)\div 9$

3. $=900\div 9$

$=100$

$1000-295-363$

$=705-363$

$=342$

$$\begin{aligned} & 145 - 45 \div 5 \\ & = 145 - 9 \\ & = 136 \end{aligned}$$

$$\begin{aligned} & 298 + 125 \\ & = 375 + 125 - 298 \\ & = 500 - 300 + 2 \\ & = 202 \end{aligned}$$

$$\begin{aligned} & 1000 - 257 - 243 \\ & = 1000 - (257 + 243) \\ & = 1000 - 500 \\ & = 500 \end{aligned}$$

$$\begin{aligned} & 723 + 215 - 223 \\ & = 723 - 223 + 215 \\ & = 500 + 215 \\ & = 715 \end{aligned}$$

五、③ ① ②

六、1. $40 + 40 \times 4 = 200(\text{元})$

答：一张桌子和一把椅子一共 200 元。

2. $425 + 309 + 87 = 821(\text{米})$

$$230 + 286 + 354 = 870(\text{米})$$

$$821 \text{米} < 870 \text{米} \quad 870 - 821 = 49(\text{米})$$

答：邮递员叔叔从邮局经过医院和公园到花园小区的路近，
近 49 米。

3. (1) $32 \times 3 = 96(\text{元})$ $48 \times 2 = 96(\text{元})$

答：买 3 箱橘子要花 96 元，买 2 箱梨要花 96 元。

(2)方法一： $32 \times 4 = 128$ (元)

$$48 \times 4 = 192$$
(元)

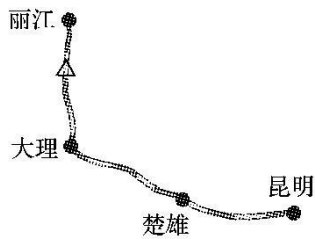
$$128 + 192 = 320$$
(元)

方法二： $(32 + 48) \times 4 = 320$ (元)

答：一共花了 320 元。

4. (1) $524 - 328 = 196$ (千米)

答：大理到丽江的距离是 196 千米。



(2) $29 + 32 + 31 + 27 + 32 = 151$ (千米)

答：李叔叔这五天一共行驶了 151 千米。

(2) $125 + 151 = 276$ (千米)

答：李叔叔星期五晚上到家时里程表的读数是 276 千米。

【点拨】星期一早上出发时看到的里程数是起始里程数，应向后推算 151 千米，所以用加法计算。