

英语部分

1. Which planet of the following is the nearest to the Sun?

A. Earth B. Mars C. Venus D. Moon.

【解析】C. 以下哪个行星离太阳最近? 考查行星顺序。四个选项中, 离太阳最近的是金星, 选 C.

2. Do you know the Four Books and the Five Classics? Which one is true?




A. Book of Seasons 《存秋》 B. Book of Poem 《诗经》

C. Book of Changes 《易经》 D. Book of Gifts 《礼记》

E. Book of Histories 《尚书》

【解析】C. 四书五经是我国儒家传统经典, 五经的英文译文为: The Book of Poetry (also known as The Book of Songs, The Book of Odes)(《诗经》), The Book of History(《尚书》), The Book of Rites(《礼记》), The Book of Changes(《易经》) 和 The Spring and Autumn Annals(《春秋》)。

3. Which of the following can reduce the noise pollution?(多选)

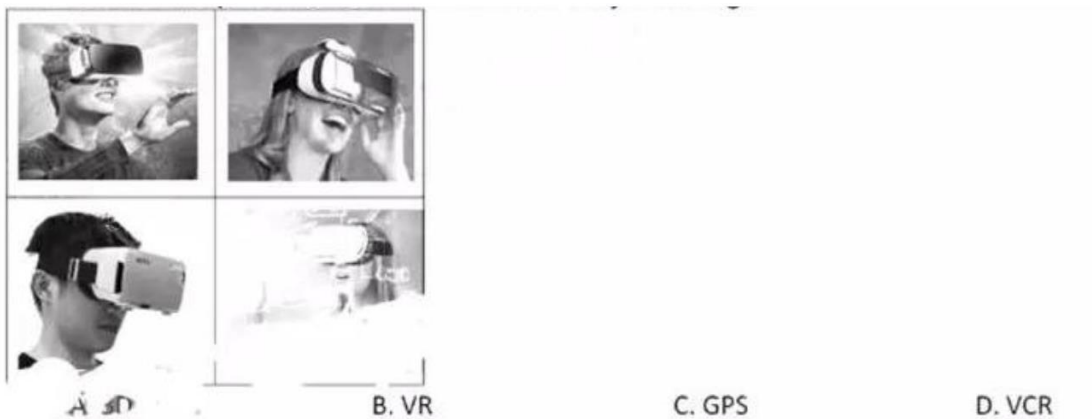


4. Where should you wear a belt?

- A. On the waist.
- B. On the hand.
- C. On the wallet.
- D. On the wardrobe.

【解析】A，题目问：皮带系哪里？当然是系在腰上 On the waist.

5. Look at the pictures below. What are they wearing?



【解析】B。从图片可以看出，他们戴的是VR。VR（全称 Virtual Reality），指虚拟现实技术，又称灵境技术，是20世纪发展起来的一项全新的实用技术。虚拟现实技术囊括计算机、

电子信息、仿真技术于一体，其基本实现方式是计算机模拟虚拟环境从而给人以环境沉浸感。

6. Which of the following is NOT a symmetric figure?



7. If you draw an animal, which part you should draw first?





A. body B. Leg C. Paw D. Tail

解析：A，如果让你画一个动物，你应该先画哪个部分？比较四个选项 A. 身体 body；B. 腿 leg；C. 爪 “paw；D. 尾巴 tail，应该先画身体再画其他选项。

8. Look at the circles of different colors, try to find the rule and tell which the 26th picture is?



【解析】B。从上图的规律看出每组图形是 7 个图， $4 \times 7 = 28$ ，那么第 28 个图是 ，倒推第 26 个应该是 。

9. A talks to B: My dog is clever. He can understand English! So he asks his dog what

eight plus eight is, but the dog says nothing. What will B think?

- A. The dog can understand English.
- B. The dog knows nothing.
- C. The dog can work out math problem.
- D. The dog can't understand English.

【解析】D，主人对另一个人说自己的狗会英语，所以问它  $8+8=?$ 。但是狗什么也没说。

那么另一个人认为：他的狗听不懂英语：

10. The tortoise wants to travel thousand miles away, what will you say to him?

- A. 水滴石穿。
- B. 不以跬步，无以致千里。
- C. 契而不舍。
- D. 世上无难事，只怕有心人。

【解析】B，蜗牛要去远方，你用什么劝它？No pace, no miles. 不以跬步，无以致下里：

从 mile 这个词也可以推断出答案。

11. Which following part of the earth has the largest area?

- A. River. B. Lake. C. Sea. D. Ocean.

【解析】D. 以下地球哪个地方的面积最大？Ocean 大洋

12. There are four red balls and one yellow ball. Choose only once at random, which

of the following is right?

- A. It can't be the yellow ball.
- B. It must be the red ball.
- C. The probability of the red ball is the biggest.
- D. The answer is unsure.

**【解析】** C，有四个红球和一个黄球。随机抽一次，下面选项中哪个是正确的?从概率的角度分析，C 红球出现的概率最高是正确的。

13. A person's normal body temperature is about .

- A. 35.5°C
- B. 36.5°C
- C. 38.5°C
- D. 40°C

**【解析】** B 人的正常体温是 36.5°C 左右。

## 语文部分

### 【拼音】

1. 下列字音字形全都正确的有几个 ( )

fēi    líng                  zèng    dì                  chěng

受益匪浅    凌云壮志    爱憎分明    中流砥柱    众志成城

A. 1 B. 2 C. 3 D. 4

答案：B

解析：有误的是中流砥柱 众志成城 爱憎 zēng 分明

**【字音字义】**

2. 洋洋大观的观的意思。（ ）

A 外观 B 景象 C 对…的理解 D 对事物的认识看法

答案：B

解析：【洋洋大观】洋洋：盛大、众多的样子 大观：丰富多彩的景象。

传统文化

3. 如果要研究传统文化中的月亮的话，下列哪一个不适合（ ）

A. 月亮和一些故事的关联 B. 李白诗中的月亮

C. 月亮和民族的关系 D. 绘画中的月亮

答案：D

解析：注意题干要求是研究传统文化中的月亮，ABC 更恰当

**【诗词积累】**

4. 以下哪一句与例句诗句“问渠哪得清如许，为有源头活水来”的，上下句关系一致的是（ ）

A. 何当共剪西窗烛，却话巴山夜雨时。

B. 不畏浮云遮望眼，自缘身在最高层。

- C. 洛阳亲友如相问，一片冰心在玉壶
- D. 接天莲叶无穷碧，映日荷花别样红

答案：B

解析：例句是因果关系，B项也是因果关系。

**【文学常识】**

5. 下列诗人所引用的他人诗句搭配正确的一项是（ ）

- A. 李白引用“我劝天公重抖擞，不拘一格降人才”来劝诫君王重用人才。
- B. 王冕引用“春风又绿江南岸，明月何时照我还”表达思乡之情。
- C. 陆游引用“粉骨碎身全不怕，要留清白在人间”表达自己的高尚情操。
- D. 王维引用“纸上得来终觉浅，绝知此事要躬行”教导后辈要知行合一。

答案：B

解析：王冕是元末明初人，可以引用宋朝的诗句。A 李白不能用清朝的，C 陆游宋朝不能引用明朝的，D 王维唐朝的不能引用宋朝的。

**【近义词反义词】**

6. 下列词语与下列哪个词语词性不一样？（ ）

- A 画蛇添足 B 斩钉截铁 c 翻山越岭

**【诗词】：**

7. 以下表达花的形象的诗句不同的一项是：（ ）

- A. 黄四娘家花满蹊，千朵万朵压枝低。
- B. 接天莲叶无穷碧，映日荷花别样红。
- C. 西塞山前白鹭飞，桃花流水鳜鱼肥。
- D. 不是花中偏爱菊，此花开尽更无花。

答案：A

解析：B 指荷花，D 指菊花，C 指桃花，A 不特指某一种花

**【文学常识】**

8. 某科技公司选择“鸿蒙”“麒麟”作为商标，一家公司要选择一个神兽作为公司的商标，

以下不符合要求的选项是（ ）

- A 鲲鹏 B 朱雀 C 方舟 D 金乌

答案：C

**【谚语】**

9. 以下的哪个谚语不是描述天气的（ ）

- A. 朝霞不出门，晚霞行千里
- B. 冬天麦盖三层被，来年枕着馒头睡
- C. 天上鱼鳞斑，晒谷不用翻
- D. 蚂蚁搬家晴必雨，蜘蛛结网雨必晴。

答案：B

解析：B 形容的是天气与收成的关系



11. 以下漫画中，小男孩将一句标语写在了垃圾桶上，哪一句最合适？

- A. 文明靠大家
- B. 我文明，我骄傲
- C. 文明只差一步
- D. 我是环保卫士

答案：C

### 董遇治学

（章）遇，字季直，性质讷而好学。兴平中，关中扰乱，与兄季中依将军段熲。采稻（lǚ）负贩，而常挟持经书，投闲习读，其兄笑之而遇不改。遇善治《老子》，为《老子》作训注。又善《左氏传》，更为作《朱墨别异》，人有从学者，遇不肯教，而云：“必先读百遍！”常言：“读书百遍，其义自见。”从学者云：“苦渴无日。”遇言：“当以‘三余’。”或问“三余”之意。遇言：“冬者岁之余，夜者日之余，阴雨者时之余也。”

12. 对文章内容分析正确的一项是（ ）

- A 多读书可以更好地学习。
- B 善于抽出时间学习
- C 珍惜时间就能创造更多时间
- D.

## 现代文

我们常用蜗牛爬行来形容速度慢。其实，确切地说蜗牛不是爬行，而是滑行的。在它通过的地方都留有它分泌的一层黏液，这样，蜗牛即使在锋利的刀刃上爬，身体也不至于被割破。蜗牛害怕阳光，因为阳光会把它的身体烤干。它大部分时间缩在壳里睡觉，壳口还用一层黏液封闭起来。整个冬季它可以一连睡上几个月。蜗牛的嘴比竹尖还要小，可是长着两万五千六百颗牙齿。当然，这些牙齿。我的的肉眼是看不见的。如果我们把蜗牛放到一个纸盒里，那它能用咬个洞逃走呢。它的眼睛长在触角的顶端，不过视力很弱。好在它的嗅觉异常灵敏，弥补了视力的不足

13. 蜗牛的黏液有什么作用（ ）

- A. 可能帮助加快速度
- B. 留下信息，通知同伴
- C. 增加自己的湿度
- D. 修复自己的组织

14. 蜗牛去远方，你打算用哪句送给它

- A. 水滴石穿
- B. 不积跬步，无以至千里
- C. 锲而不舍

D. 世上无难事，只怕有心人。

**【现代文】**

奶奶又一次吵着要回农村老家时，爸爸一筹莫展。我也不想奶奶回乡下，但我感觉得出来，奶奶在城里确实住不习惯，她来这儿仅仅是因为我们在这儿。奶奶多次跟我提起她在农村老家种的庄稼，还有屋后的菜园子。说起她的菜园子，奶奶总是眉飞色舞，有说不完的话。

“爸，奶奶估计是想她的菜园子了。你帮她弄个菜园子，她就不用回乡下了。”我说。

一听到“菜园子”三个字，奶奶的眼睛亮了。

“菜园子？”爸爸马上就明白过来。奶奶在农村劳动了一辈子，现在要她换个环境生活，她肯定是舍不得，也不习惯。现在，奶奶每天都很忙碌，天一亮就往天台跑。我在奶奶的带领下，一箱一箱参观她种的菜。奶奶指指这个，指指那个，仿佛运筹帷幄的大将军，而天台就是她的疆土，奶奶每天早上、傍晚：都会上天台，在她的菜园子里松土、施肥、浇水。她做事可认真了，松土时总是小心翼翼，生怕弄断了植物的根茎。她侍弄那些蔬菜就像对待自己的娃娃，不仅用心，连眼神都充满了慈爱。奶奶再也没提回农村老家的事，她知道爸爸为了让她留在城里费尽心思。她本也不是矫情的人，只要每天有事可忙，感觉自己没有吃白食，她就能安心、坦然地住下来。

这城市上空的菜园子是奶奶的精神寄托，是她延续自己劳动习惯的场所，也是她觉得自己应该留下来的理由。我理解奶奶。这小小的菜园子在阳光下绿意盎然，它还体现了爸爸妈妈对奶奶的孝心，联结着我们家人的心。

15. 修改文中的病句

16. 文中句子标点使用有误的是

数学部分

1. 有一排气球按照 3 黄 2 绿 1 红 1 蓝的顺序摆放，问第 26 个是什么颜色的球？

答案：绿色解析：周期问题， $26 \div 7 = 3 \dots 5$ ，第五个为绿球。

2. 一个盒子里面有四个红球，一个黄球，取一个球的可能性（ ）

A、一定取红球

B、不可能取黄球

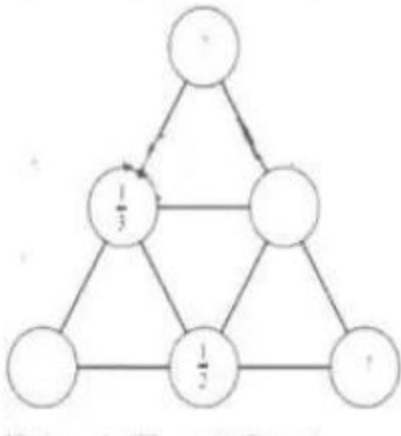
C、取红球的可能性大

D、取黄球的可能性大

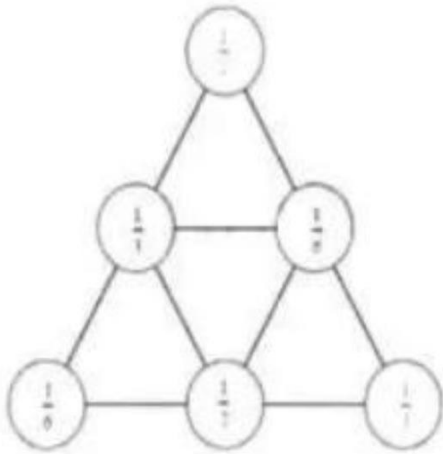
答案：C

解析：取红球的概率为 0.8. 取黄球的概率为 0.2 所以选 C

3. 如图所示，每个三角形的和都相等，都等于 1，然后求两个问号分别是多少？



答案：如图，12 和 13



解析：略

4. 黄豆中蛋白质的占比是 40%，蚕豆中占蛋白质的占比是 25%，按什么比例去吃，才能保证黄豆中和蚕豆中所含的蛋白质一样多？

答案：5.8

解析：黄豆中含蛋白质 40%，蚕豆中含蛋白质 25%。设黄豆吃  $a$  份，蚕豆吃  $b$  份，则  $40\%a = 25b$ ， $a:b = 5:8$ ，所以黄豆和蚕豆按照 5:8 的比例吃才能保证黄豆中和蚕豆中所含的蛋白质一样多。

5. 有一堆纸，如果可以回收再利用的话，其中  $\frac{4}{5}$  是可以做成再生纸，现在总共有 4500 万吨原来的纸，然后其中  $\frac{2}{5}$  是可以用来再生纸，问可以再生多少吨新纸？

答案：1440

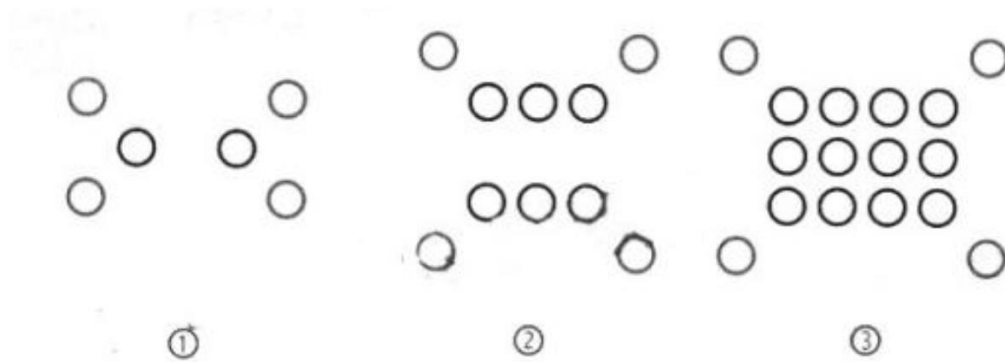
解析： $4500 \times \frac{2}{5} \times \frac{4}{5} = 1440$ （吨）

6. 有两把直尺，一把是 6 厘米，一把是 13 厘米，问最少用几次就可以测量出 8 厘米长的线段？

A、3 次 B、4 次 C、5 次 D、6 次 E、7 次

答案：C 解析： $13 \times 2 - 6 \times 3 = 8$ 。5 次。

7. 如图所示，请问第四幅图里有几个圆圈？



答案：24

解析：第一幅图： $4 + 1 \times 2 = 6$ ，第二幅图： $4 + 2 \times 3 = 10$ ，第三幅图： $4 + 3 \times 4 = 16$ ，第四幅图：

$$4 + 4 \times 5 = 24$$

8. 小明 10 分钟可以折 3 个千纸鹤或者 10 个星星，妈妈 10 分钟可以折 8 个千纸鹤或者是 11 个星星，现在全班有 24 个人，要给每人 1 个千纸鹤和 3 个星星，最少需要 ( ) 分钟。

答案：50 分钟。

解析：由题意知小明做星星有相对优势，妈妈做千纸鹤有相对优势，妈妈 30 分钟可以做 24 个千纸鹤，小明 30 分钟做 30 星星，还差  $24 \times 3 - 30 = 42$  个星星， $42 \div (10 + 11) = 2$ ，

共需要  $30+20=50$  分钟。

9. 下面哪个图形旋转之后可以得到下图？



A



B



C



D

答案：A

解析：考察图形旋转知识。

10. 有 ABC 三种型号的车（有很多辆）选三辆车有几种选法？

答案：10

解析：枚举法，共 AAA. BBB. CCC. ABC. AAB. ABB. AAC. ACC. BBC、BCC. 10 种。

11. 25 除以一个数，商是两位小数，问这个数是（ ）。

A、4 B、6 C、8 D、16

答案：A

解析： $25 \div 4 = 6.25$

12. 147 位学生出游，租 A、B、C 三辆车，人数有多少种不同的方法？

答案：10

解析：当 A 车为 147 人，有 1 种方案；当 A 车为 148 人，有 2 种方案；当 A 车为 149 人，有 3 种方案；当 A 车为 150 人，有 4 种方案。共 10 种方法。

13. 一个盒子里面有一堆球，第一个人说最少 20 个小球，第二个人说最多 16 个小球，第三个人说你们都说错了，第三个人说的是与真话，另外两个是猜的，问盒子里有多少个球？

下列选项正确的是()

A、20 个 B、16 个 C、22 个 D、18 个 E、10 个

答案：D

解析：第一个人和第二个人说的是假话，那么他们的对立面就是真话。

最少 20 个小球是假话，说明比 20 少是真话

最多 16 个小球是假话，说明比 16 多是真话

那么： $16 < \text{小球的个数} < 20$

所以小球的个数可能是：17/18、19. 选择 D

14. 有一堆红球和黄球。它们的个数比是 3: 2，每次取 5 个红球 3 个黄球，取了 x 次后红球全部取完。问剩下的黄球是多少？（请用 x 表示）

A、 $x/4$  B、 $x/5$  C、 $x/3$  D、 $x/2$



答案：C

解析：红球的总个数为  $5x$  个，则黄球的个数为  $5x \times \frac{2}{3} = \frac{10x}{3}$  个，拿掉了  $3x$  个，剩下  $\frac{x}{3}$  个，选 C。

15. 请问下列哪些选项是成比例的（ ）

- A、身高和体重 B、年龄和身高  
C、路程和时间 D、一堆相同皮球的总重量和数量

答案：D

解析：一堆相同皮球的总重量和数量是正比例关系，C 选项没说明是匀速运动。AB 选项显然不对。

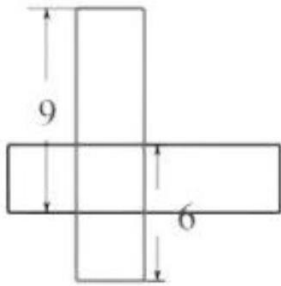
16. 每次射箭最多 10 环，最少 0 环，有一个人打算射 10 箭，前 6 箭射了 52 环，那么还剩 4 箭，他如果要打破 89 环，问第七箭至少要射中（ ）环，

- A、9 B、8 C、7 D、6

答案：B

解析：要打破 89 环，至少为 90 环，所以第七箭至少  $90 - 52 - 10 \times 3 = 8$ （环）

17. 已知下图为两个相同的长方形，问长方形的周长是多少？



答案：30

18. 7:40 到 7:55 行了全程的  $\frac{3}{5}$ ，行完全程时是 ( )

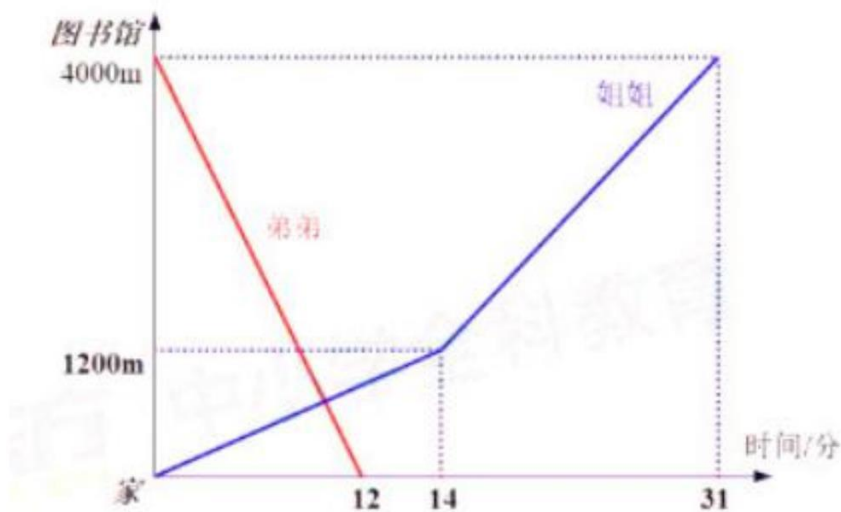
解析：行程问题，基础题：后面一段路程还有 2 份，所需时间为  $15 \div 3 \times 2 = 10$  分钟，

所以行完全程时是 8:05 分

19. 弟弟从图书馆出发经过了 12 分钟到家里，姐姐同时从家出发经过了 14 分钟走了 1200

米，然后变速，走到图书馆共用了 31 分钟，妈妈是从姐姐和弟弟出发后，6 分钟才出发，

从家出发，在路上与姐姐相遇两次，和弟弟相遇一次，问妈妈的速度可能是 ( )。



小升初网 [www.xsc.cn](http://www.xsc.cn)

A、165 米/分 B、155 米/分

C、150 米/分 D、160 米/分

答案：BD