

## 2017 年北师大版小学三年级下册数学期末考试试卷

### 一、认真思考，仔细填写。(29 分)

- 1、一个长方形的周长是 16 厘米，这个长方形的长是 5 厘米，宽是 ( ) 厘米。
- 2、小明从一楼走到三楼用了 18 秒，照这样的速度，他从一楼走到五楼要用 ( ) 秒。
- 3、 $\frac{5}{6}$  里面有 ( ) 个  $\frac{1}{6}$ ，9 个  $\frac{1}{10}$  是 ( )，1 里面有 ( ) 个  $\frac{1}{7}$ 。
- 4、星期日，明明和姐姐去奶奶家，早晨 8:20 从家中出发，9:45 到奶奶家，一共用了 ( ) 小时 ( ) 分钟。
- 5、把一张长方形的纸对折再对折，剪开后，每一部分占整个长方形的 ( )。
- 6、甲果园种了杏树、梨树、苹果树、桃树，乙果园种了桃树、山楂树、梨树、苹果树、柿子树，两个果园一共种了 ( ) 种果树。
- 7、一辆汽车约能载重 6 ( ) 的货物，它每小时行 60 ( )。
- 8、最小的三位数与最大的一位数的和是 ( )，积是 ( )。
- 9、 $390 \times 5$  积的末尾有 ( ) 个 0， $150 \times 6$  积的末尾有 ( ) 个 0。
- 10、3 时 = ( ) 分      20 分米 = ( ) 厘米      90 秒 = ( ) 分 ( ) 秒  
3 千米 = ( ) 米      6 吨 = ( ) 千克      2 米 4 厘米 = ( ) 厘米
- 11、在○里填“>”“<”或“=”。

$$\frac{3}{5} \bigcirc \frac{2}{5}$$

$$\frac{5}{8} \bigcirc \frac{7}{8} - \frac{2}{8}$$

$$1 + \frac{1}{20} \bigcirc 1 + \frac{1}{30}$$

- 12、 再涂 ( ) 块，涂色部分就占整个圆的  $\frac{5}{6}$ 。

### 二、判断题。(6 分)

- ( ) 1、分针走 2 大格，秒针走 2 圈。
- ( ) 2、300 克糖比 300 克铁轻。
- ( ) 3、把一张长方形纸分成 8 份，每份是它的  $\frac{1}{8}$ 。
- ( ) 4、 $605 \times 4$ ，积末尾有 2 个 0。
- ( ) 5、正方形、长方形和平行四边形都是四边形。
- ( ) 6、因为  $7 > 5$ ，所以  $\frac{1}{7} > \frac{1}{5}$ 。

### 三、选择题。(5 分)

- 1、一个数的 6 倍是 540，这个数是 ( )  
A.3240      B.60      C.90
- 2、要使  $\square \times 9$  的积是三位数， $\square$  里最大填 ( )。  
A.111      B.100      C.112
- 3、不能验算  $679 + 539 = 1218$  的算式是 ( )。  
A.  $679 - 539$       B.  $1218 - 679$       C.  $539 + 679$
- 4、把 5 米长的绳子平均分成 8 份，每份是这根绳子的 ( )。  
A.  $\frac{1}{5}$       B.  $\frac{1}{8}$       C.  $\frac{5}{8}$
- 5、把一张长 10 厘米、宽 6 厘米的长方形剪成一个最大的正方形，正方形的边长是 ( ) 厘米。  
A.10      B.4      C.6

**四、细心观察，准确计算。（27分）**

1、直接写出得数。

$64+44=$

$300 \times 1=$

$39+28=$

$400-327=$

$607-296 \approx$

$704 \times 8 \approx$

$283 \times 6 \approx$

$198 \times 5 \approx$

$1 \text{ 米} - 75 \text{ 厘米} =$

$\frac{2}{7} - \frac{2}{7} =$

$1 - \frac{3}{7} =$

$\frac{1}{3} + \frac{2}{3} =$

2、列竖式计算（带\*的要验算）。

$402 \times 3 =$

$*588 + 274$

=

$*600 - 249 =$

$360 \times 5 =$

3、列式计算。


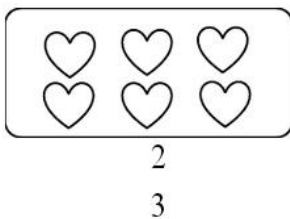
1、25 是 5 的几倍？

2、一个数加上 418，结果是 726，这个数是多少？


3、比 379 多 215 的数是多少？

**五、合理想象，动手操作。（8分）**

1、根据分数涂颜色。



2、下面每个小正方形的边长都是 1 厘米，请在下面的方格纸中分别设计一个周长是 8 厘米的长方形和正方形，并把它们的  $\frac{1}{2}$  用颜色表示出来。



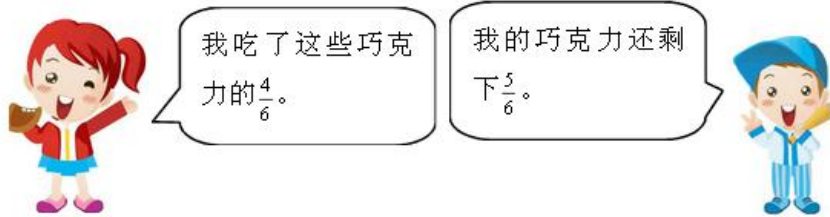
**六、联系实际，解决问题。（25分）**

1、工程队要修一条长 3000 千米的路，第一天修了 639 千米，第二天修了 865 千米，两天


一共修了多少千米？

2、6箱蜂蜜可以酿36千克蜂蜜。照这样计算，54箱蜂蜜可以酿多少千克蜂蜜？

3、小丽和小刚去郊游，每人都带了24块巧克力。谁吃得多？多几块？



4、张大伯要用篱笆围一个长8米，宽3米的长方形鸡舍，为了节省材料，一面靠墙，至少要围多少米的篱笆？



5、

(1) 每节车厢能坐乘客308人，这列9节车厢的火车大约能坐多少人？

(2) 请你算一算，小红在火车上睡了多长时间？

XSC.CN